


**Đề thi Toán lớp 4**  
(Global Success)

**PHẦN 1: TRẮC NGHIỆM**

**Bài 1:** Các em hãy quan sát các loại quả sau và đánh dấu vào sau đáp án đúng để chuẩn bị các loại quả cho mâm cỗ:



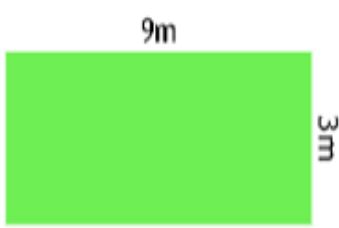
- Quả bưởi cân nặng 6kg
- Nải chuối cân nặng hơn quả bưởi
- Tổng cân nặng của nải chuối và thanh long ít hơn cân nặng của quả bưởi
- Tổng cân nặng của quả bưởi và táo bằng tổng cân nặng của ba loại quả còn lại

**Bài 2:** Hãy khoanh vào đáp án đúng để tìm địa điểm bày mâm cỗ nào:

a) Chị Hằng Nga cần một chiếc bàn để bày mâm cỗ cho các bạn nhỏ. Em nên chọn chiếc bàn có diện tích như thế nào để phù hợp nhất:

- A. 9000  $cm^2$
- B. 9  $dm^2$
- C. 9  $m^2$
- D. 9000  $mm^2$

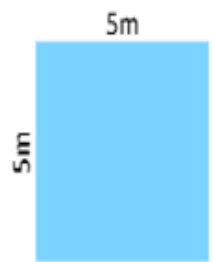
b) Bác tổ trưởng dân phố quyết định cho các bạn thiếu nhi tổ chức phá cỗ ở một khoảng sân. Em sẽ chọn vị trí nào để có diện tích lớn nhất:



A



B



C

**Bài 3:** Chọn thời gian thích hợp cho mỗi sự việc:



Mẹ cắt bánh trung thu



Em làm đèn ông sao



Chúng em rước đèn và phá cỗ

15 phút

120 giây

1 giờ

**Bài 4:** Điền số thích hợp vào chỗ trống:

Cây đa cạnh nhà văn hóa nơi em sống được trồng từ năm 1995 (thuộc thế kỉ .....

Năm nay, cây đa đã ..... tuổi.

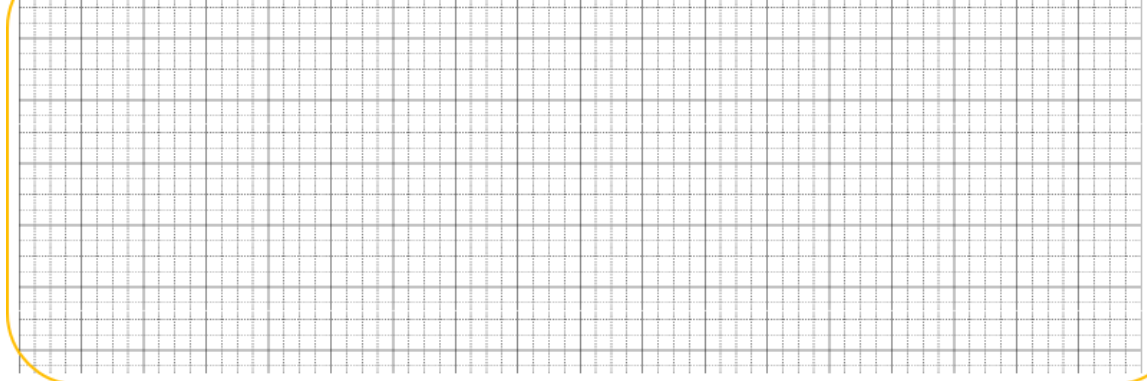




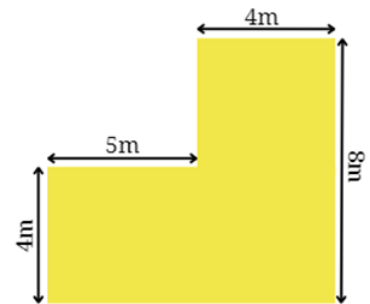
a) Tính diện tích mỗi chiếc bàn?

b) Biết rằng một cái bàn dùng để trưng bày đèn lồng. Cứ  $10 \text{ dm}^2$  thì chị Hằng đặt một cái đèn lồng. Như vậy, chị Hằng có thể trưng bày được bao nhiêu chiếc đèn lồng trên chiếc bàn?


**Bài giải**



**Bài 4:** Bác tổ trưởng dân phố quyết định cho các bạn nhỏ rước đèn và phá cỗ ở sân có kích thước như hình bên. Tính diện tích khoảng sân đó?



**Bài giải**



**Bài 5:** Để làm đèn ông sao, em đã mua 6 tờ giấy bóng, 1 que gỗ, 1 cuộn dây kẽm, 2 cái vòng tre. Hỏi em đã mua hết bao nhiêu tiền? Biết giá tiền của mỗi loại vật dụng như sau:

Tên	Số lượng	Giá tiền
Giấy bóng	1 tờ	7 000 đồng
Que gỗ	1 cái	5 000 đồng

Tên	Số lượng	Giá tiền
Dây kẽm	1 cuộn	10 000 đồng
Vòng tre	1 cái	12 000 đồng

**Bài giải**

**Bài 6:** Điền số cân nặng thích hợp với mỗi đồ vật:

- Cân nặng của em là: .....

- Cân nặng của hộp bánh trung thu là: .....