

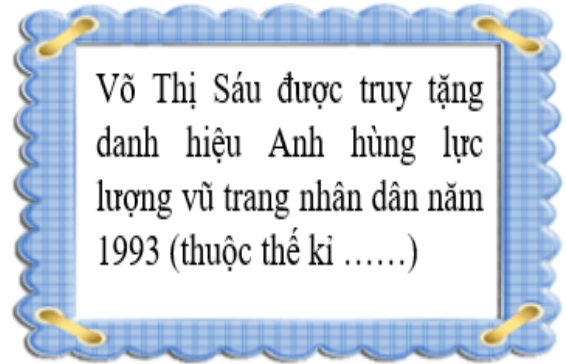
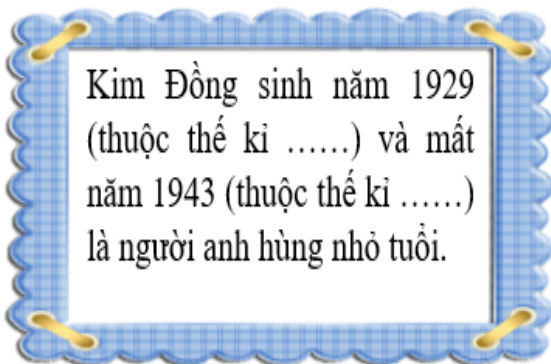
**Đề thi Toán lớp 4**  
(Global Success)

**PHẦN 1: TRẮC NGHIỆM**

**Bài 1:** Đề-xi-mét vuông là đơn vị đo:

- A. Khối lượng
- B. Diện tích
- C. Thời gian
- D. Dung tích

**Bài 2:** Điền số la mã thích hợp vào chỗ trống:



**Bài 3:** Đúng ghi Đ, sai ghi S:

Diện tích của một cục tẩy khoảng  $6\text{ cm}^2$

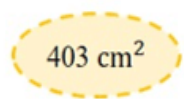
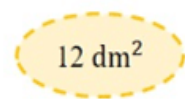

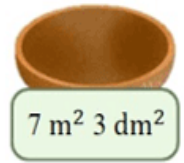


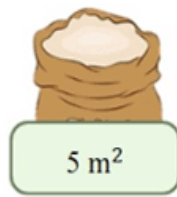

Diện tích của một cục tẩy khoảng  $100\text{ mm}^2$

Diện tích của một cái thước kẻ khoảng  $15\text{ cm}^2$

Diện tích của một cái thước kẻ khoảng  $2\text{ m}^2$



**Bài 4:** Hãy giúp mèo Đôrêmon thu thập nguyên liệu bằng cách nối các kết quả bằng nhau:




**Bài 5:** Chủ tịch nước Hồ Chí Minh sinh năm 1890. Vậy năm đó thuộc thế kỉ thứ mấy?

- A. Thế kỉ XX
- B. Thế kỉ XVIII
- C. Thế kỉ XIX
- D. Thế kỉ XVII


## PHẦN 2: TỰ LUẬN

**Bài 1:** Hãy điền số thích hợp vào chỗ trống để giúp mèo máy trộn bột làm bánh rán:




$1 \text{ m}^2 45 \text{ dm}^2 = \dots\dots\dots \text{ dm}^2$   
 $2 \text{ m}^2 3 \text{ dm}^2 = \dots\dots\dots \text{ dm}^2$   
 $4 \text{ dm}^2 44 \text{ cm}^2 = \dots\dots\dots \text{ cm}^2$   
 $9 \text{ cm}^2 15 \text{ mm}^2 = \dots\dots\dots \text{ mm}^2$   
 $8 \text{ cm}^2 6 \text{ mm}^2 = \dots\dots\dots \text{ mm}^2$

$1 \text{ m}^2 = \dots\dots\dots \text{ dm}^2 = \dots\dots\dots \text{ cm}^2$   
 $20 \text{ dm}^2 = \dots\dots\dots \text{ cm}^2$   
 $800 \text{ mm}^2 = \dots\dots\dots \text{ cm}^2$   
 $9500 \text{ dm}^2 = \dots\dots\dots \text{ m}^2$   
 $7 \text{ cm}^2 = \dots\dots\dots \text{ mm}^2$



$5 \text{ phút} = \dots\dots\dots \text{ giây}$   
 $60 \text{ phút} = \dots\dots\dots \text{ giờ}$   
 $420 \text{ giây} = \dots\dots\dots \text{ phút}$   
 $7 \text{ thế kỉ} = \dots\dots\dots \text{ năm}$   
 $900 \text{ năm} = \dots\dots\dots \text{ thế kỉ}$



**Bài 2:** Hoàn thành bảng sau (theo mẫu) để rán bánh cùng Đôrêmon nào:

Đọc	Viết
Bảy mươi ba đề-xi-mét vuông	<i>73 dm<sup>2</sup></i>
Bốn trăm năm mươi tám mét vuông	.....
.....	<i>3 009 mm<sup>2</sup></i>
Một nghìn không trăm hai mươi sáu mét vuông	.....
.....	<i>738 mm<sup>2</sup></i>

**Bài 3:** Bố của Nam sinh năm 1980. Hỏi năm bố của Nam 43 tuổi thuộc thế kỉ nào?




**Bài giải**

**Bài 4:** Đôrêmon có ba chiếc đĩa hình vuông cạnh 2dm. Vì có nhiều bánh rán nên Đôrêmon đã ghép ba chiếc đĩa đó thành một chiếc đĩa thật to hình chữ nhật có chiều dài 6dm. Tính diện tích của chiếc đĩa hình chữ nhật?



**Bài giải**

**Bài 5:** Chiếc bàn tiệc dạng hình chữ nhật có chiều dài 12dm và chiều rộng 6dm. Đôrêmon dự định bày kín bàn tiệc bằng những chiếc đĩa đựng đầy bánh rán dạng hình vuông cạnh 20cm. Hỏi Đôrêmon cần chuẩn bị bao nhiêu cái đĩa như vậy để bày kín bàn tiệc?



**Bài giải**

A large grid area for writing the solution, consisting of a grid of small squares with a dashed line in the middle for a margin.

**Bài 7:** Hãy vẽ “cánh cửa thần kì” dạng hình chữ nhật cho ngôi nhà dưới đây để đón các bạn mèo máy khác:

