

Đề thi Toán lớp 4
(Global Success)

PHẦN 1: TRẮC NGHIỆM

Bài 1: Tô màu vàng vào số bé nhất, tô màu xanh vào số lớn nhất trong mỗi dãy số sau:

176 689 000
176 698 000
76 689 000
16 699 050
176 789 000

73 217
73 271
37 111
37 071
73 721

94 205 502
95 202 505
92 005 522
92 002255
95 502 205

Bài 2: Hoàn thành bảng sau:

Số	Đọc số	Giá trị chữ số 5
245 876 000
541 098 723
.....	Bảy mươi tám triệu chín trăm linh chín nghìn năm trăm ba mươi một
1 054 069

Bài 3: Chọn số cân nặng thích hợp với mỗi con vật:



4 kg



700 g



3 yến



4 tấn



7 tạ

Bài 4: Khoanh vào chữ cái trước câu trả lời đúng:

a) Làm tròn số 245 879 045 đến hàng trăm nghìn là:

A. 246 000 000

B. 245 889 045

C. 245 900 000

D. 245 800 000

b) Giá trị chữ số 7 của số 57 932 145 là:

A. 7 000 000

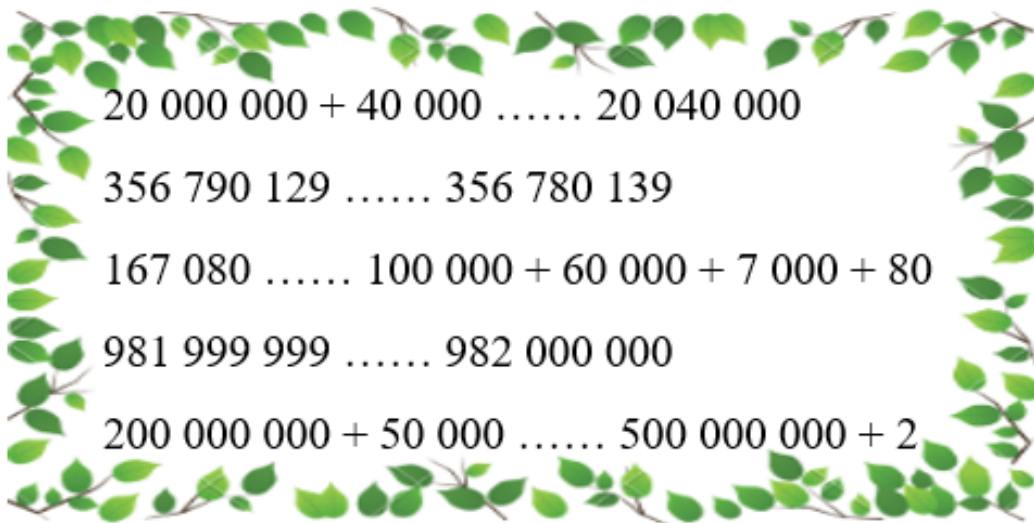
B. 70 000 000

C. 7 000

D. 700 000

PHẦN 2: TỰ LUẬN

Bài 1: Điền dấu $>$, $<$, $=$ thích hợp:



Bài 2: Hoàn thành dãy số sau:

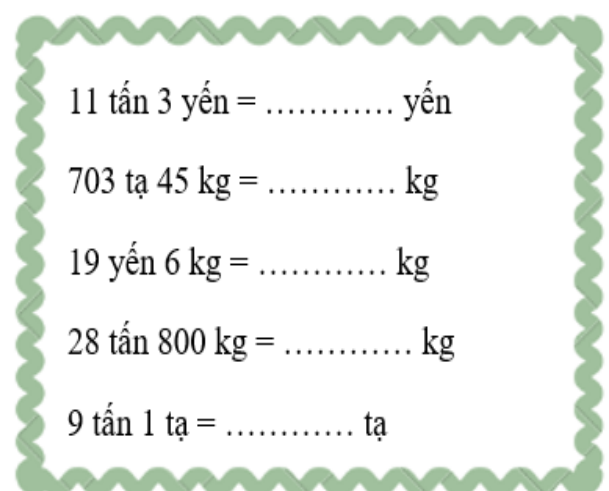
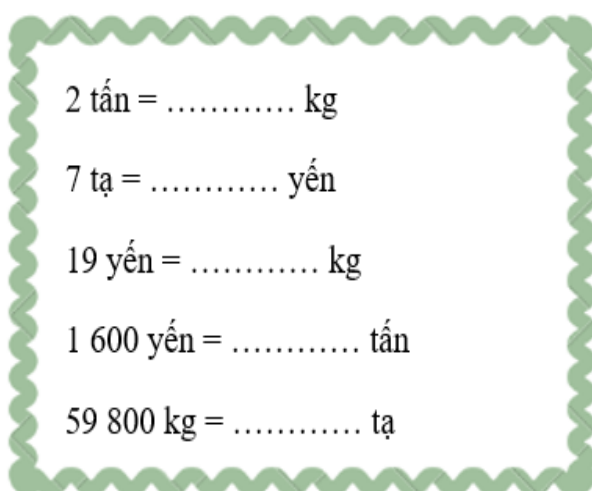
a) 2, 4, 6, 8,,,

b) 11, 22, 33, 44,,,

c) 100 100, 100 200, 100 300, 100 400,,,

d) 170 000, 180 000, 190 000, 200 000,,,

Bài 3: Điền số thích hợp vào chỗ trống:



Bài 4: Tổng cân nặng của voi bố, voi mẹ và voi con là 13 tấn. Tổng cân nặng của voi bố và voi mẹ là 110 tạ. Hỏi voi con nặng bao nhiêu ki-lô-gam?

Bài giải



Bài 5: Tính:

130 tấn + 15 tạ

.....

.....

1050 kg × 5

.....

.....

455 kg - 23 yến

.....

.....

7 890 tấn : 5

.....

.....

Bài 6: Một đoàn xe chở thức ăn cho sở thú gồm hai loại xe tải lớn và xe tải nhỏ. Mỗi xe tải lớn chở được 15 bao, mỗi bao nặng 1 tạ. Mỗi xe tải nhỏ chở được 10 bao, mỗi bao nặng 8 yến. Hỏi mỗi xe tải lớn chở nhiều hơn xe tải nhỏ bao nhiêu ki-lô-gam thức ăn?

Bài giải

Bài 7: Tìm x là số tròn trăm thỏa mãn điều kiện sau:

a) $123\,456 < x < 123\,756$

b) $1\,000\,777 > x > 1\,000\,000$

c) $240 < x < 640$

d) $100\,000 + 2\,000 + 100 > x > 101\,900$