

**Đề thi Toán lớp 4**  
(Global Success)

**Phần 1: Trắc nghiệm**

**Bài 1:** Đúng ghi Đ, sai ghi S:


- Số lớn nhất có sáu chữ số là 999 999.
- Số bé nhất có sáu chữ số khác nhau là 102 345.
- Số 256 490 đọc là hai trăm năm sáu nghìn bốn trăm chín mươi.
- Số ba trăm linh năm nghìn không trăm mười bảy viết là 305 017.
- Số liền trước của số bé nhất có sáu chữ số là 99 999.

**Bài 2:** Hoàn thành bảng sau:

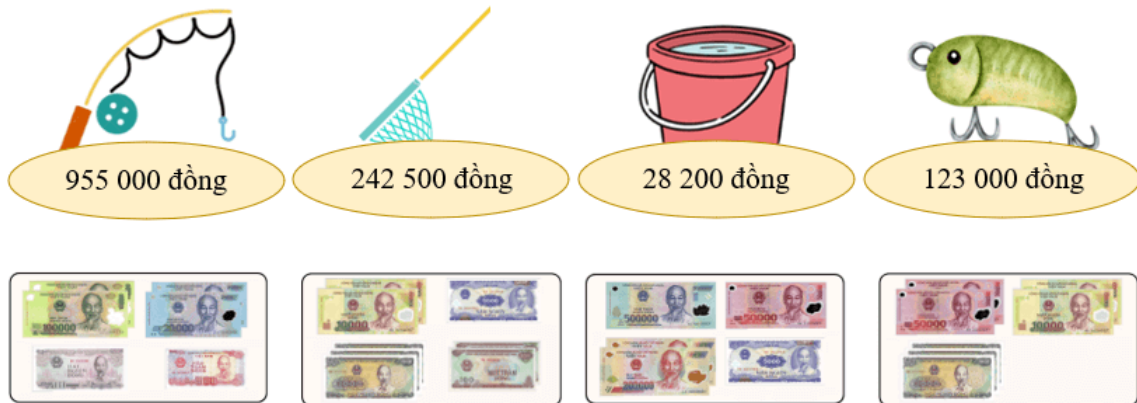
Số	Lớp triệu			Lớp nghìn			Lớp đơn vị		
	Hàng trăm triệu	Hàng chục triệu	Hàng triệu	Hàng trăm nghìn	Hàng chục nghìn	Hàng nghìn	Hàng trăm	Hàng chục	Hàng đơn vị
123 456 789	...	...	...	...	...	...	...	...	...
.....		6	4	0	3	9	5	1	2
6 543 871	...	...	...	...	...	...	...	...	...
.....	2	0	6	1	4	9	7	8	2
43 780 111	...	...	...	...	...	...	...	...	...



**Bài 3:** Hoàn thành dãy số sau:



**Bài 4:** Nối đồ vật với số tiền tương ứng để mua các dụng cụ câu cá:

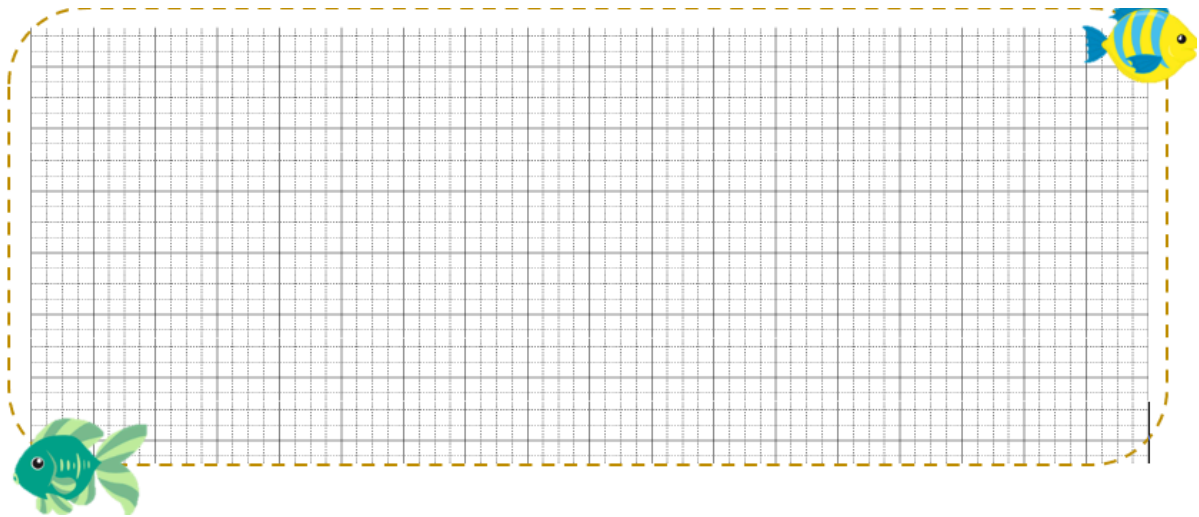


## Phần 2: Tự luận

**Bài 1:** Phân tích các số sau thành tổng (theo mẫu):

270 901; 43 628; 153 694; 778 992; 901 532; 865 173

*Mẫu:*  $113\ 458 = 100\ 000 + 10\ 000 + 3\ 000 + 400 + 50$



**Bài 2:** Đọc số và tìm giá trị của chữ số được gạch chân:

Số	Đọc số	Giá trị chữ số gạch chân
546 <u>3</u> 90	..... .....	.....
<u>3</u> 00 976	..... .....	.....
652 <u>7</u> 77	..... .....	.....
995 <u>1</u> 28	..... .....	.....

**Bài 3:** Từ các chữ số dưới đây:



- a) Lập 5 số chẵn có sáu chữ số.
- b) Lập 5 số lẻ có sáu chữ số.
- c) Lập số nhỏ nhất có sáu chữ số.
- d) Lập số lớn nhất có sáu chữ số.

**Bài giải**

A large grid for writing the solution to Bài 3. The grid is enclosed in a dashed yellow border. A small cartoon frog is in the top right corner, and a small red crab is in the bottom left corner.

**Bài 4:** Tính chu vi hình vuông biết cạnh hình vuông là số nhỏ nhất có sáu chữ số khác nhau (đơn vị là cm).

A grid for writing the solution to Bài 4 and a square diagram. The grid is enclosed in a dashed yellow border. A small green turtle is in the bottom right corner. To the right of the grid is a square diagram with a blue border.


**Bài 5:** Đọc số và cho biết chữ số được gạch chân thuộc hàng nào, lớp nào:

Số	Đọc số	Hàng	Lớp
743 <u>8</u> 62	..... .....	.....	.....
918 541	..... .....	.....	.....
63 <u>3</u> 422	..... .....	.....	.....
3 <u>2</u> 1 853	..... .....	.....	.....
752 9 <u>6</u> 3	..... .....	.....	.....

**Bài 6:** Tính nhanh

a,  $32684 + 41325 + 316 + 675$

b,  $17 \times 26 + 26 \times 44 + 39 \times 26$



**Bài 7:** Để chọn được chỗ câu cá tốt, Tít phải đi qua một cái cầu thang. Biết rằng cầu thang cần đi là dãy số cách đều không chứa số lẻ. Hỏi Tít phải đi qua cầu thang nào?

The illustration shows two staircases. The left staircase is blue and has steps with numbers 111 200, 111 240, and 111 250. The right staircase is purple and has steps with numbers 156 000, 156 010, and 156 020. A boy named Tít stands between them looking confused at a question mark sign. There are fish and a crab around the stairs.

111 250	156 000
111 240	.....
.....	156 010
.....	.....
.....	156 020
111 200	.....

.....