

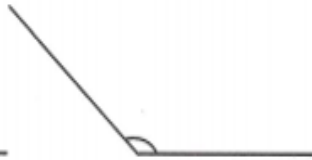
**Đề thi Toán lớp 4**  
(Global Success)

**PHẦN 1. TRẮC NGHIỆM**

**Bài 1.** Em hãy điền vào chỗ chấm tên gọi của mỗi góc:



Hình A



Hình B

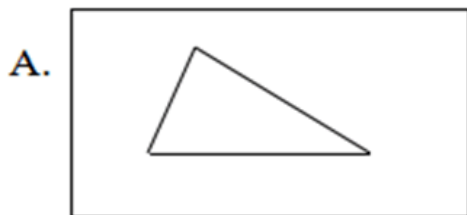


Hình C

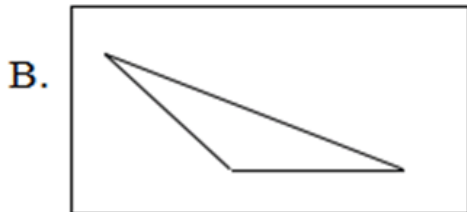


Hình D

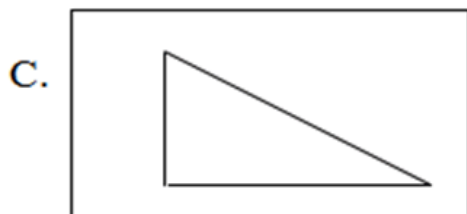
**Bài 2.** Nối mỗi ô ở cột trái với một ô ở cột phải để được khẳng định đúng:



Hình tam giác có góc tù (1)

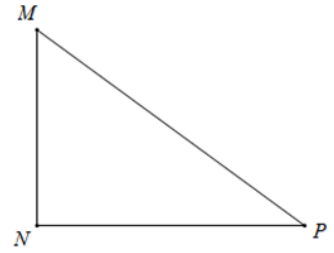
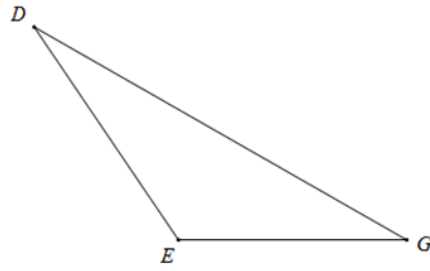
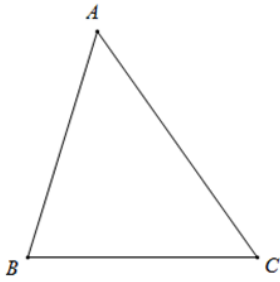


Hình tam giác có góc vuông (2)



Hình tam giác có 3 góc nhọn (3)

**Bài 3.** Viết số thích hợp vào ô trống:



a) Hình tam giác ABC có  góc nhọn.

b) Hình tam giác DEG có  góc tù và  góc nhọn.

c) Hình tam giác MNP có  góc vuông và  góc nhọn.

#### Bài 4. Đúng ghi Đ, sai ghi S

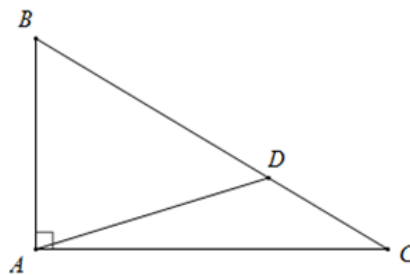
Trong hình bên có:

1 góc vuông

1 góc tù

1 góc bẹt

5 góc nhọn



**Bài 5.** Để có sức khỏe tốt học tập, chúng ta cần phải chăm tập thể thao. Em hãy cho biết tư thế của bạn Dũng đã tạo ra những những góc gì? (nối tương ứng tên góc và hình vẽ góc trong tư thế của Dũng)



Góc nhọn



Góc vuông



Góc tù



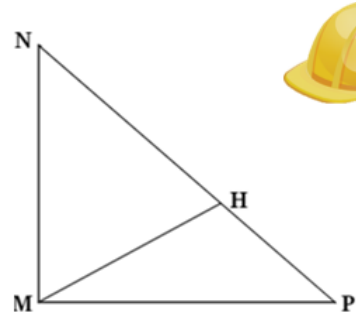
Góc bẹt

**Bài 6.** Đúng ghi Đ, sai ghi S:

Quan sát hình bên:



- Hình bên không có góc vuông
- Hình bên không có góc tù
- Hình bên có 5 góc nhọn
- Số đo góc đỉnh M cạnh MN, MP là  $90^\circ$



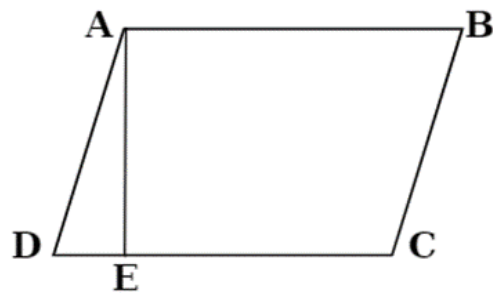
**Bài 7.** Xếp các góc theo thứ tự tăng dần về số đo là:

- A. Góc bẹt, góc tù, góc vuông, góc nhọn
- B. Góc nhọn, góc tù, góc bẹt, góc vuông
- C. Góc nhọn, góc vuông, góc tù, góc bẹt
- D. Góc nhọn, góc vuông, góc bẹt, góc tù

**Bài 8.** Đúng ghi Đ, sai ghi S:

Quan sát hình bên:

- Hình bên không có góc vuông
- Hình bên có 2 góc tù
- Hình bên có 5 góc nhọn
- Số đo góc đỉnh E cạnh ED, EA là  $90^\circ$



**Bài 9.** Khoanh vào đáp án đúng:

Số liền sau số nhỏ nhất có sáu chữ số khác nhau là:

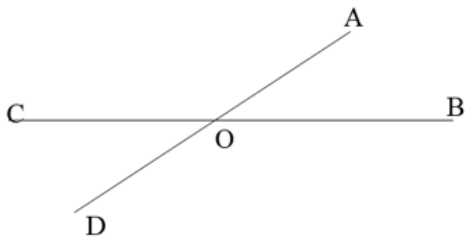
- A. 102 345
- B. 100 001

C. 100 002

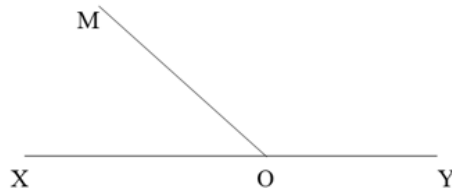
D. 102 346

## PHẦN 2. TỰ LUẬN

**Bài 1.** Đọc tên góc nhọn có trong hình sau:

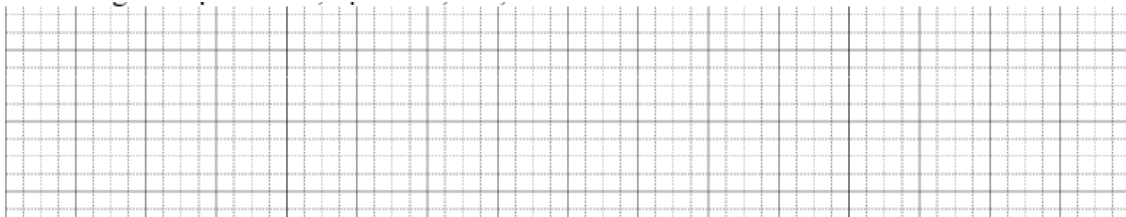


**Hình 1**



**Hình 2**

**Hình 1:** góc nhọn đỉnh O, cạnh OA, OB,



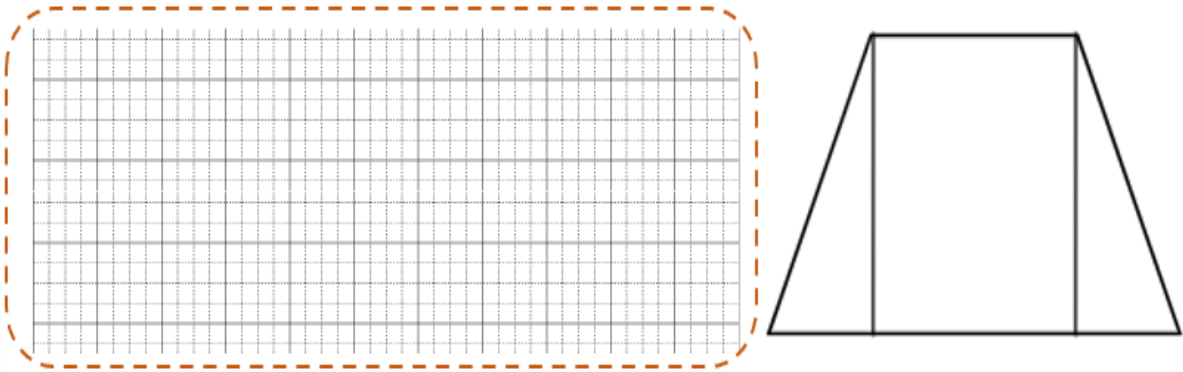
**Hình 2:**



**Bài 2.** Em hãy vẽ góc vuông đỉnh O; cạnh OX, OY. Sau đó em hãy vẽ góc vuông đỉnh O; cạnh OY, OZ để tạo thành góc bẹt đỉnh O; cạnh OX, OZ.



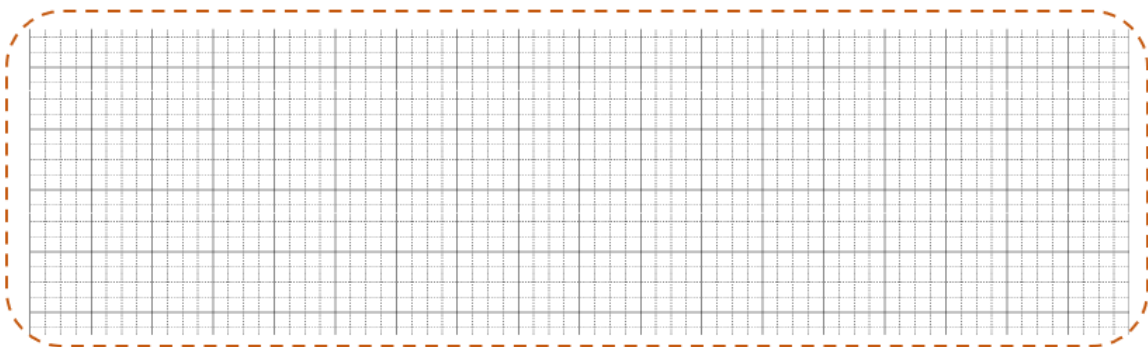
**Bài 3.** Quan sát hình bên và cho biết trong hình bên có mấy góc nhọn, góc vuông, góc tù?



**Bài 4.** Phân tích các số sau thành tổng (theo mẫu):

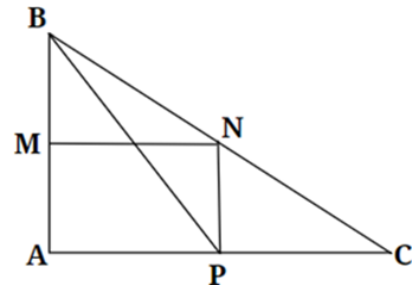
624 890; 249 503; 523 119; 573 095; 152 846

$624\ 890 = 600\ 000 + 20\ 000 + 4000 + 800 + 90$





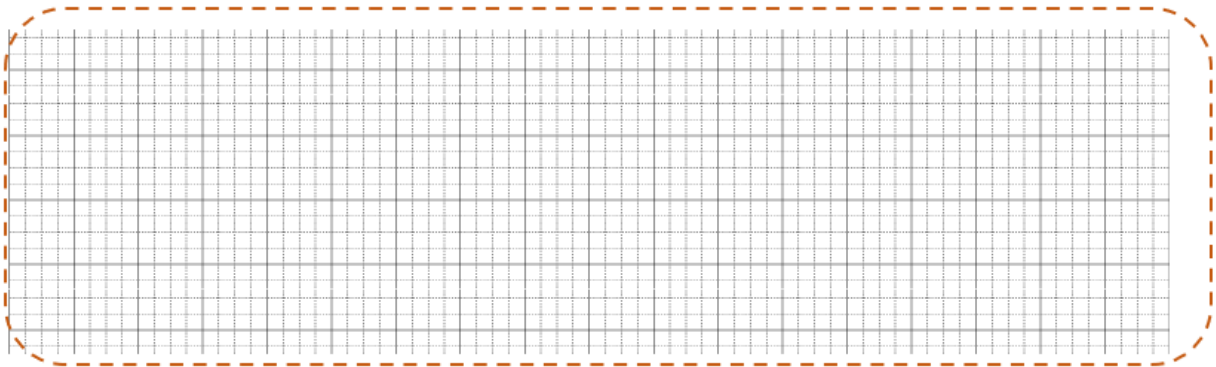
**Bài 7.** Quan sát hình bên:



a) Nêu tên các góc tù.

b) Nêu tên các góc nhọn.

c) Nêu tên các góc vuông.



**Bài 8.** Đọc số và tìm giá trị của chữ số được gạch chân:

Số	Đọc số	Giá trị chữ số gạch chân
542 390	..... .....	.....
<u>3</u> 00 976	..... .....	.....
702 <u>7</u> 77	..... .....	.....
99 <u>5</u> 378	..... .....	.....