

## Đề thi Toán lớp 3

(Global Success)

### PHẦN 1. TRẮC NGHIỆM

1. Dấu thích hợp điền vào chỗ chấm là:  $4 \times 7 \dots\dots\dots 3 \times 9$

A. >

B. <

C. =

2. Điền số thích hợp vào ô trống:  $4 \times \square = 36$

3. Phép tính nào có kết quả lớn nhất?

A.  $32 : 4$

B.  $18 : 3$

C.  $16 : 4$

D.  $21 : 3$

4. Một cửa hàng nhập về 5 thùng kẹo, mỗi thùng chứa 4 hộp kẹo. Hỏi cửa hàng đã nhập về bao nhiêu hộp kẹo?

A. 30 hộp kẹo

B. 35 hộp kẹo

C. 20 hộp kẹo

D. 25 hộp kẹo

5. Độ dài đường gấp khúc gồm 4 đoạn thẳng có độ dài lần lượt là 14 cm, 16 cm, 20 cm và 13 cm là:

A. 62 cm

B. 66 cm


C. 65 cm

D. 63 cm

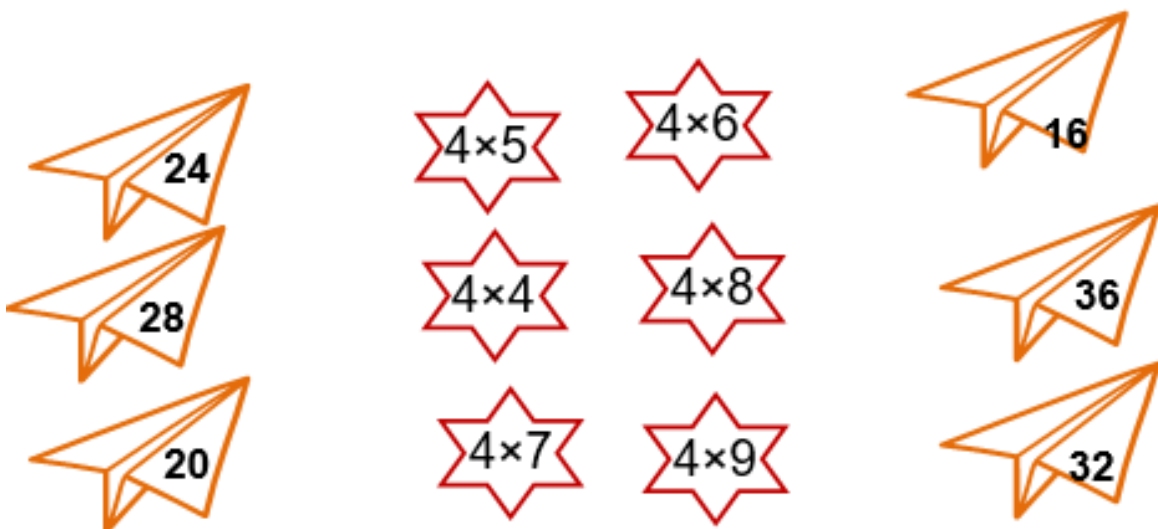
6. Ngày 29 tháng 4 là thứ năm thì ngày 2 tháng 5 cùng năm đó là thứ mấy?

Trả lời: .....

7. Tìm hình thích hợp điền vào dấu ?




8. Nối phép tính với kết quả đúng

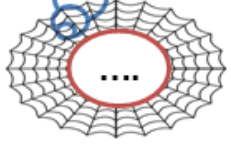



## PHẦN 2. TỰ LUẬN

**Bài 1.** Để giúp nhện trắng về được nhà, em hãy điền đáp số đúng của bài toán vào chỗ chấm nhé!

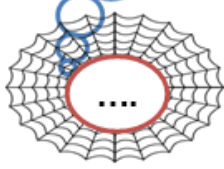



Mỗi bạn được cô giáo tặng 4 quyển vở. Biết số vở cô đã tặng là 40 quyển. Hỏi có bao nhiêu bạn được tặng vở?



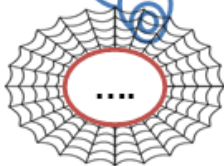


Mỗi chuồng có 4 con thỏ. Hỏi 12 con thỏ được nhốt vào mấy cái chuồng?







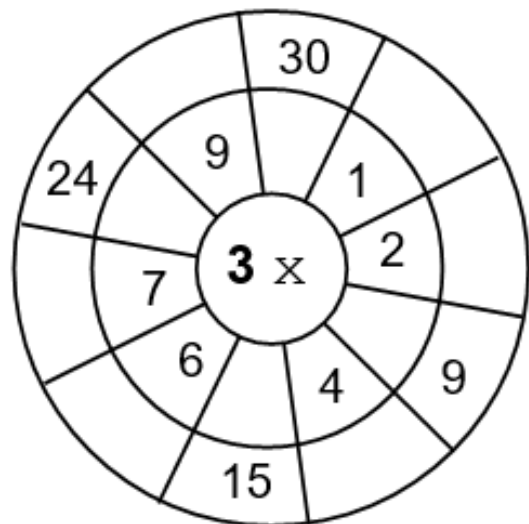
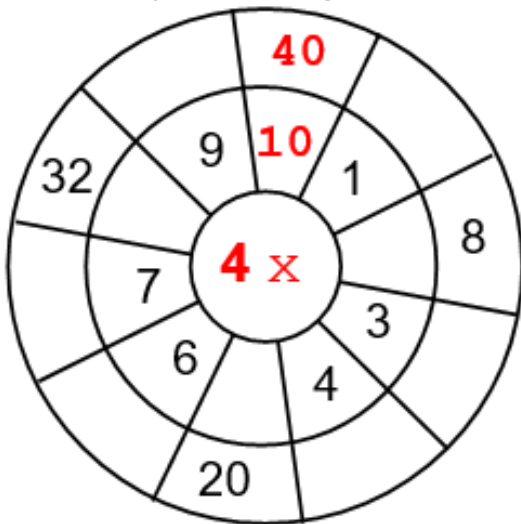
Bà nhờ Mai lấy đĩa để đựng cam mời khách. Biết mỗi đĩa bà định xếp 4 quả cam và bà có tất cả 24 quả cam. Hỏi Mai cần lấy bao nhiêu chiếc đĩa?



Tom được bố giao đếm số bò của nông trại. Tom đếm được tất cả 36 cái chân bò. Hỏi nông trại có mấy con bò?

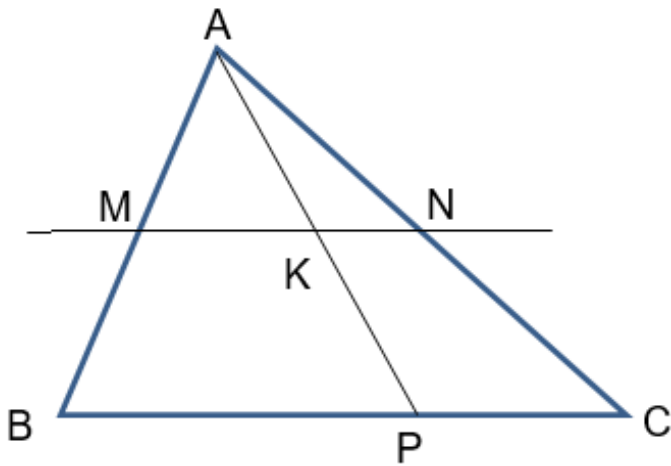



**Bài 2.** Tính (Theo mẫu)









.....điểm

Tên 3 điểm thẳng hàng là:

.....

..... đoạn thẳng

..... đường thẳng

..... hình tam giác

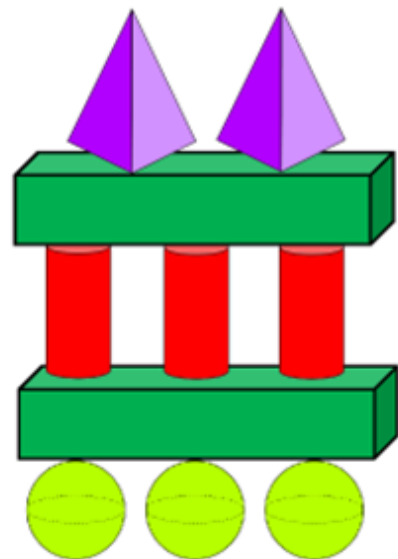
..... hình tứ giác

**Bài 10.** Hình bên có:

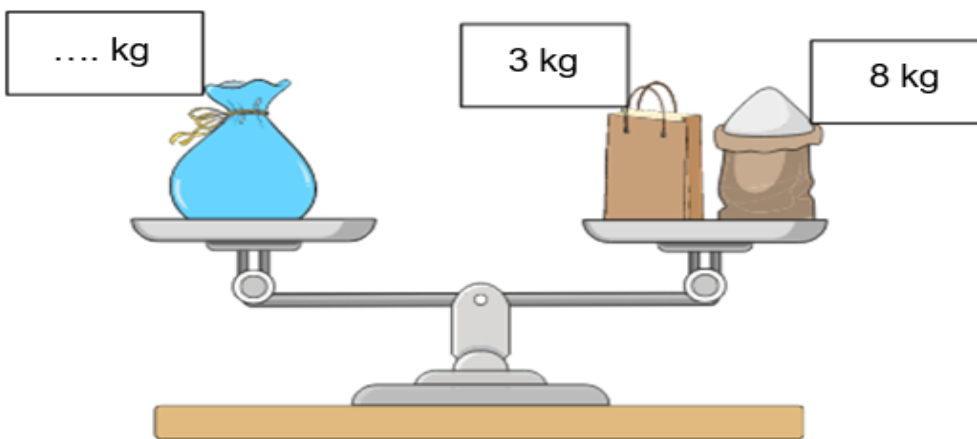
..... khối trụ

..... khối cầu

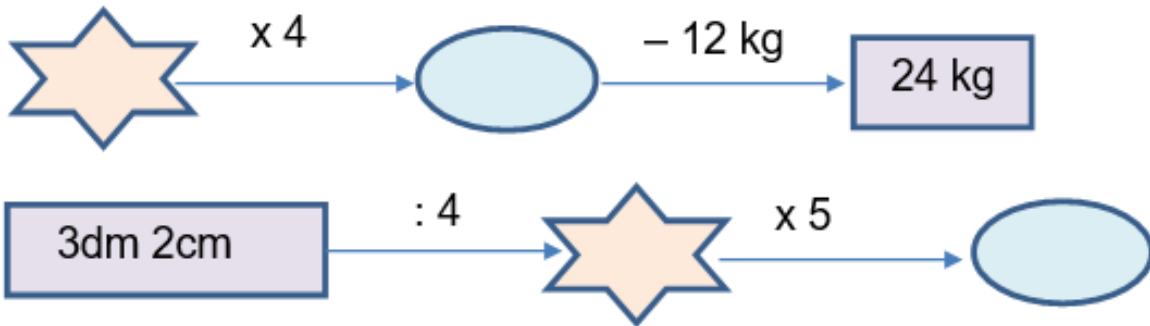
.....khối hộp chữ nhật



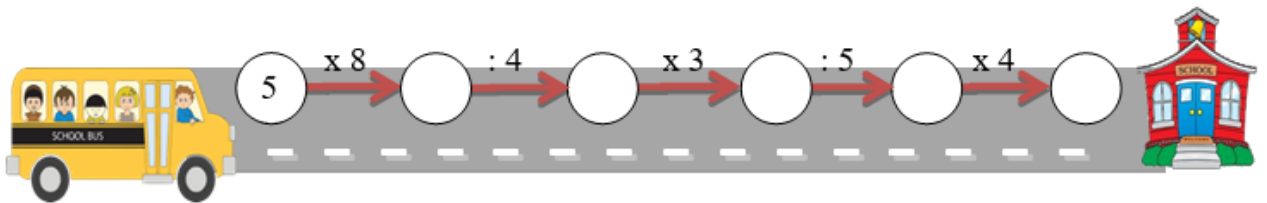
**Bài 11.** Số?



**Bài 12. Tính:**



**Bài 13. Số ?**



**Bài 14. Đồng hồ chỉ mấy giờ?**



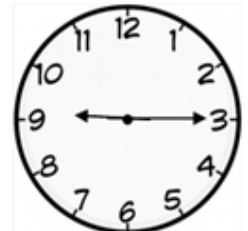
.....



.....



.....



.....


**Bài 15. Vẽ kim đồng hồ hoặc điền vào chỗ chấm cách đọc giờ thích hợp.**



3 giờ 15 phút



.....

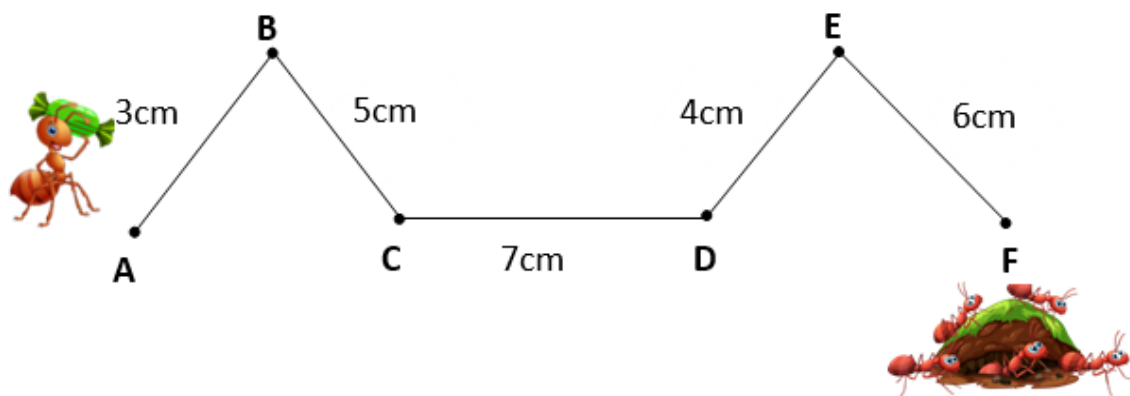


4 giờ rưỡi




.....

**Bài 16.** Chú kiến bò về hang phải qua quãng đường gấp khúc ABCDEF. Hỏi chú kiến phải bò quãng đường dài bao nhiêu xăng-ti-mét?



**Bài 17.** Ngày thứ nhất cửa hàng bác Nga bán được 265 kg rau, ngày thứ hai cửa hàng bán được 335 kg rau, ngày thứ ba bán được ít hơn ngày thứ hai 19 kg rau. Hỏi:


- Ngày thứ ba bác Nga bán được bao nhiêu ki-lô-gam rau?
- Cả ba ngày bác Nga bán được bao nhiêu ki-lô-gam rau?



**Bài 18.** Một cửa hàng có 692 l mật ong. Tháng thứ nhất cửa hàng bán được 239 l mật ong và nhiều hơn tháng thứ hai 47 l mật ong. Hỏi:

a. Cả hai tháng, cửa hàng bán được bao nhiêu lít mật ong?

b. Sau hai tháng, cửa hàng còn lại bao nhiêu lít mật ong?



**Bài 19. Số ?**

