

## Đề thi Toán lớp 3

(Global Success)

### PHẦN 1. TRẮC NGHIỆM

1. Có 14 viên kẹo chia đều cho 2 bạn. Hỏi mỗi bạn được bao nhiêu viên kẹo?

A. 6 viên kẹo

B. 7 viên kẹo

C. 8 viên kẹo

D. 9 viên kẹo

2. Hiệu của hai số bằng 8, số trừ bằng 5. Giá trị của số bị trừ là:

A. 13

B. 14

C. 15

D. 16

3. Số trừ là bao nhiêu biết rằng số bị trừ là 352 và hiệu là 338?

A. 14

B. 790

C. 24

D. 690

4. Tìm số bị trừ biết số trừ là 620 và hiệu là 380

A. 340

B. 1000













C. 440

D. 240



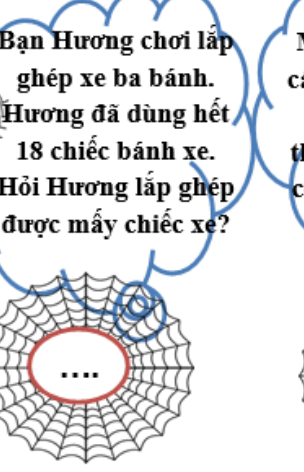

5. Số thích hợp cần điền vào chỗ trống là:

$$10 < 3 \times \square < 14$$

6. Nối phép tính với kết quả đúng

7. Để giúp nhện trăng về được nhà, em hãy điền đáp số đúng của bài toán vào chỗ chấm nhé!

 <p>Mỗi bạn được cô giáo tặng 3 quyển vở. Biết số vở cô đã tặng là 30 quyển. Hỏi có bao nhiêu bạn được tặng vở?</p> <p>....</p>	 <p>Mỗi túi có 3kg gạo. 7 túi như vậy thì có tất cả bao nhiêu kg gạo?</p> <p>....</p>	 <p>Bạn Hương chơi lắp ghép xe ba bánh. Hương đã dùng hết 18 chiếc bánh xe. Hỏi Hương lắp ghép được mấy chiếc xe?</p> <p>....</p>	 <p>Mỗi con thỏ có 2 cái tai. Nam đếm được 18 cái tai thỏ. Hỏi có tất cả có bao nhiêu con thỏ?</p> <p>....</p>
--	--	---	---

## PHẦN 2. TỰ LUẬN

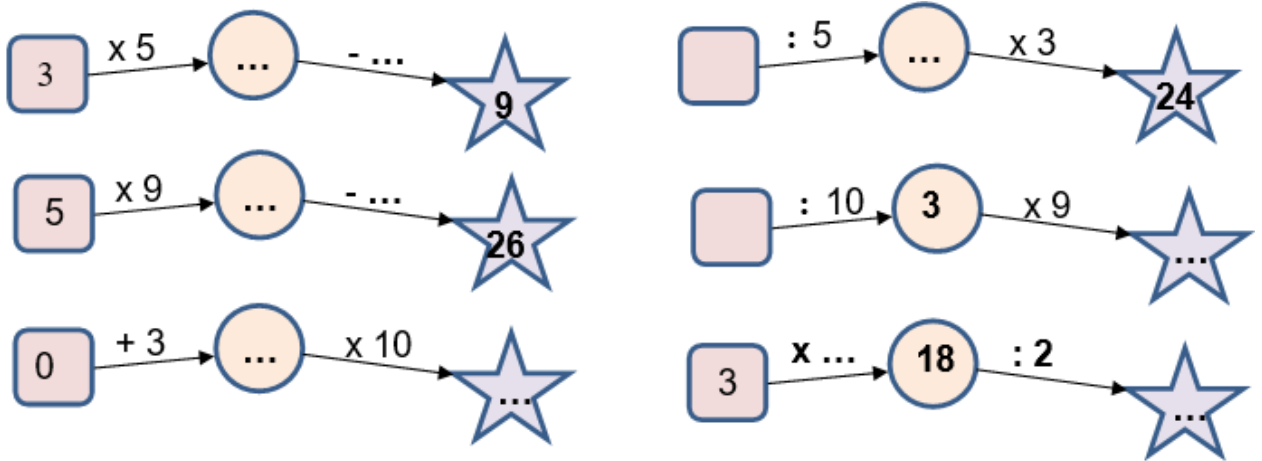
Bài 1. Viết số thích hợp vào chỗ trống:

<b>Số bị trừ</b>	136	271		100
<b>Số trừ</b>		124	336	
<b>Hiệu</b>	29		265	45

**Bài 2. Số?**

a) 3; 6; 9 ;  ;       b) 10; 12; 14;  ;       c) 21; 24; 27;  ;

**Bài 3. Số?**



**Bài 4. Số?**

a) $3 \times 5 = \dots$	$12 : 3 = \dots$	$18 : 3 = \dots$
$3 \times 7 = \dots$	$15 : 3 = \dots$	$24 : 3 = \dots$
b) $5 \times 4 = \dots$	$20 : \dots = 5$	$16 : 2 = \dots$
$5 \times 8 = \dots$	$\dots : 5 = 8$	$\dots : 2 = 10$

**Bài 5.**  $>$ ,  $<$ ,  $=$  ?

a)  $10 : 2 \dots 6$

$8 : 2 \dots 10 : 2$

b)  $25 : 5 \dots 3 \times 2$

$35 : 5 \dots 14 : 2$

$14 : 2 \dots 30 : 5$

$18 : 2 \dots 12 : 2$

$30 : 3 \dots 50 : 5$

$45 : 5 \dots 16 : 2$

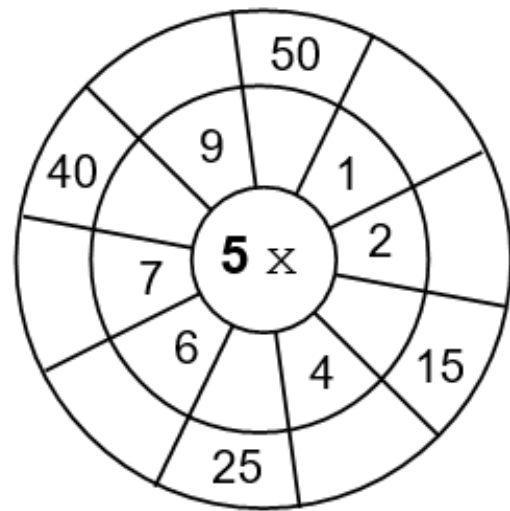
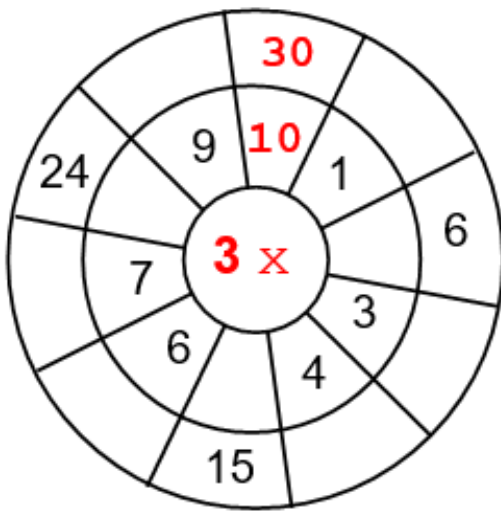
$6 : 3 \dots 5 - 2$

$20 : 2 \dots 2 \times 5$

$40 : 5 \dots 10 - 2$

$15 : 5 \dots 8 : 2$

**Bài 6.** Tính (Theo mẫu)



**Bài 7.** Mèo câu được cá thì bỏ vào xô ghi số là kết quả của phép tính ghi trên con cá đó.



a) Xô sẽ có nhiều cá nhất là xô ghi số.....

b) Xô sẽ có ít cá nhất là xô ghi số.....





*Trả lời: Trong cả ba ngày, ông ngoại Tâm trồng được.....cây hoa.*

**Bài 15.** Bà ngoại có 8 túi bánh, mỗi túi có 3 chiếc bánh rán. Bà cho 5 cháu, mỗi cháu 1 túi bánh. Hỏi bà còn lại mấy chiếc bánh rán?

*Trả lời: Bà ngoại còn lại ..... chiếc bánh rán.*

**Bài 16.** Bình lấy một mảnh giấy cắt ra làm 5 mảnh nhỏ. Từ mỗi mảnh nhỏ Bình lại cắt thành 3 mảnh nhỏ nữa. Hỏi sau khi cắt, Bình có tất cả bao nhiêu mảnh giấy?

*Trả lời: Sau khi cắt, Bình có tất cả ..... mảnh giấy.*