

Đề thi Toán lớp 3

(Global Success)

PHẦN 1. TRẮC NGHIỆM

- Số lớn nhất có ba chữ số khác nhau là:.....
- Tổng của số lớn nhất có 3 chữ số khác nhau và số bé nhất có 2 chữ số khác nhau là:
A. 987
B. 997
C. 999
D. 989
- Viết số tiếp theo vào dãy số: 234; 237; 240; ...
A. 239
B. 241
C. 242
D. 243
- Các số được xếp theo thứ tự từ lớn đến bé là:
A. 854; 640; 920; 310; 666
B. 920; 854; 666; 640; 310
C. 666; 640; 854; 310; 920
D. 310; 640; 666; 854; 920
- Biết $\square + 132 = 454$, số thích hợp điền vào ô trống là:.....
- Điền tiếp hai số vào dãy sau để được dãy số có quy luật:
a) 1; 3; 5; 7;.....;
b) 2; 4; 6; 8;;
c) 0; 4; 8; 12;;
d) 12; 23; 34; 45;.....;.....

7. Hiệu của số chẵn lớn nhất có hai chữ số và số tròn chục nhỏ nhất là:.....

8. Tổng của một số với số nhỏ nhất có ba chữ số là 120. Số đó là:.....

9. Cho các số vừa lớn hơn 900 vừa bé hơn 1000. Hiệu của số lớn nhất và số bé nhất trong các số đó là:.....

10. Nối hai phép tính có kết quả bằng nhau:




PHẦN 2. TỰ LUẬN

Bài 1. Viết tiếp vào chỗ trống:

Đọc số	Viết số	Viết thành tổng các trăm, chục và đơn vị
Bảy trăm bảy mươi lăm
.....	329	$329 = 300 + 20 + 9$
Sáu trăm linh năm
.....	925

Bài 6. Thư viện trường em có tất cả 500 cuốn sách gồm sách văn học và sách thiếu nhi. Sách văn học có 213 cuốn. Hỏi sách thiếu nhi có bao nhiêu cuốn?


Bài giải



Bài 7. Một cửa hàng buổi sáng bán được 235 lít dầu, buổi chiều bán được nhiều hơn buổi sáng 28 lít dầu. Hỏi:

- a) Buổi chiều cửa hàng đó bán được bao nhiêu lít dầu?
- b) Cả buổi sáng và buổi chiều cửa hàng đó bán được bao nhiêu lít dầu?



Bài giải




Bài 8. Khối lớp Hai có 195 học sinh, khối lớp Ba có nhiều hơn khối lớp Hai là 24 học sinh. Hỏi:

- a) Khối lớp Ba có bao nhiêu học sinh?
- b) Cả hai khối lớp có bao nhiêu học sinh?

Bài giải



Bài 9. Tính độ dài đường gấp khúc có số đo độ dài các cạnh lần lượt là: 20cm, 3dm, 2dm.



Bài 10. Từ ba chữ số sau viết tất cả các số có ba chữ số lập từ ba chữ số trên (mỗi chữ số không được lặp lại)

7

8

9

a) Hãy viết các số có 3 chữ số khác nhau, mỗi số có đủ 3 chữ số đã cho:

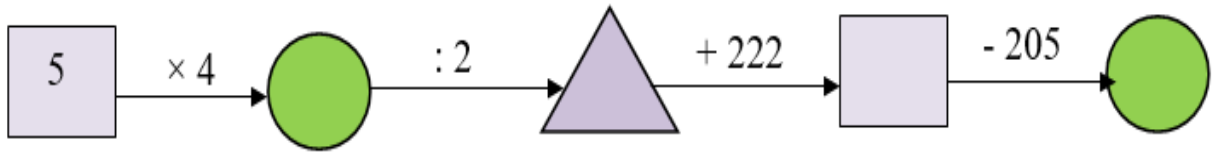
.....

b) Số lớn nhất trong các số trên là:

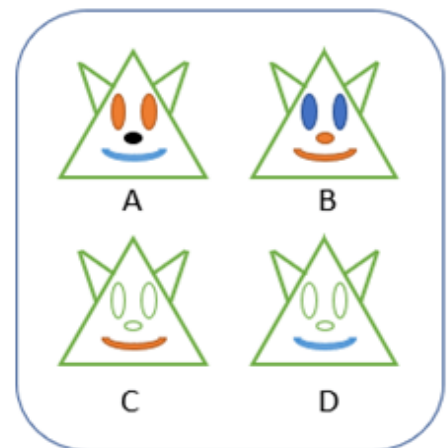

c) Số nhỏ nhất trong các số trên là:

d) Hiệu của số lớn nhất và số nhỏ nhất là :

Bài 11. Điền số thích hợp vào chỗ trống:



Bài 12. Khoanh vào đáp án đúng:



.....

.....

.....