

Đề thi Toán lớp 3
(Global Success)

Phần 1. Trắc nghiệm. (3 điểm)

Khoanh tròn vào chữ cái đặt trước câu trả lời đúng:


Câu 1. Số 756 được đọc là:

- A. Bảy năm sáu
- B. Bảy trăm năm mươi sáu
- C. Bảy trăm năm sáu
- D. Bảy trăm năm chục sáu đơn vị

Câu 2. Giá trị của chữ số 9 trong số 209 là:

- A. 9
- B. 90
- C. 900
- D. 19

Câu 3. Đồ vật nào dưới đây có dạng khối lập phương?



Câu 4. $\frac{1}{5}$ số bông hồng là:



- A. 6 bông
- B. 5 bông
- C. 4 bông
- D. 7 bông

Câu 5. Bà Năm bán được 60 quả trứng trong buổi sáng. Buổi chiều số trứng bà bán được giảm 5 lần so với buổi sáng. Hỏi buổi chiều bà Nam bán được bao nhiêu quả trứng?

- A. 16 quả
- B. 14 quả
- C. 55 quả
- D. 12 quả

Câu 6.

$$5 \text{ dm } 47 \text{ cm} = \dots\dots\dots \text{ mm}$$

Số thích hợp điền vào chỗ chấm là:

- A. 547
- B. 970
- C. 457
- D. 870

Phần 2. Tự luận. (7 điểm)

Câu 7. (2 điểm) Đặt tính rồi tính

a) $98 + 640$

.....

.....

.....

.....

.....

c) 158×3

.....

.....

.....

.....

.....

b) $540 - 341$

.....

.....

.....

.....

.....

d) $423 : 9$

.....

.....

.....

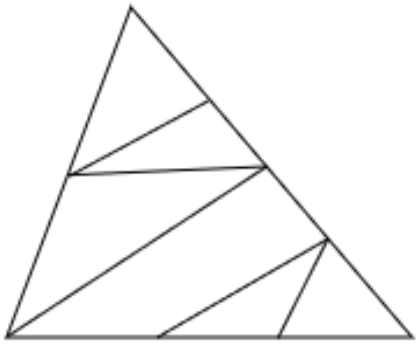
.....

.....

Câu 8. (1 điểm) Số?

Số cái bánh để xếp vào hộp	Số bánh mỗi hộp	Số hộp bánh	Số bánh còn dư
19	2	9	1
26	5		
35	4		

Câu 9. (1 điểm) Điền số thích hợp vào chỗ chấm



Hình vẽ bên có:

..... hình tứ giác

..... hình tam giác

Câu 10. (1 điểm) Tính

a) $460 \text{ cm} + 253 \text{ cm} = \dots\dots\dots \text{ cm}$

b) $478 \text{ g} - 356 \text{ g} = \dots\dots\dots \text{ g}$

c) $159 \text{ kg} \times 5 = \dots\dots\dots \text{ kg}$

d) $679 \text{ ml} : 7 = \dots\dots\dots \text{ ml}$

Câu 11. (1 điểm) Năm nay mẹ 35 tuổi, mẹ hơn con 25 tuổi. Hỏi tổng số tuổi của hai mẹ con là bao nhiêu?

Bài giải

.....





.....

.....

.....

.....

Câu 12. (1 điểm) Quan sát hình ảnh dưới đây rồi điền số hoặc từ thích hợp vào chỗ chấm.

Nam	Hoa	Linh	Hùng
			
115 cm	123 cm	109 cm	130 cm

a) Bạn có chiều cao lớn nhất.

b) Bạn có chiều cao thấp nhất.

c) Bạn Hoa cao hơn bạn Nam cm.

d) Sắp xếp tên các bạn có chiều cao theo thứ tự từ thấp đến cao là:

.....