

Đề thi Toán lớp 1
(Global Success)

Phần 1. Trắc nghiệm (4 điểm)

Câu 1. Số liền sau của 29 là:

- A. 30 B. 28 C. 31 D. 40

Câu 2. $4 \text{ kg} + 5 \text{ kg} + 16 \text{ kg} = \dots\dots \text{ kg}$.

- A. 9 B. 20 C. 25 D. 21

Câu 3. Tính tổng, biết các số hạng là 48 và 17:

- A. 31 B. 65 C. 41 D. 55

Câu 4. Đồng hồ chỉ:



- A. 1 giờ B. 6 giờ C. 12 giờ D. Không xác định

Câu 5. Bàn học của em dài khoảng bao nhiêu đề-xi-mét?

- A. 11 dm B. 30 dm C. 2 dm D. 100 cm

Câu 6. Mẹ vắt được 67 lít sữa bò, chị vắt được 33 lít sữa bò. Hỏi cả hai vắt được bao nhiêu lít sữa bò?

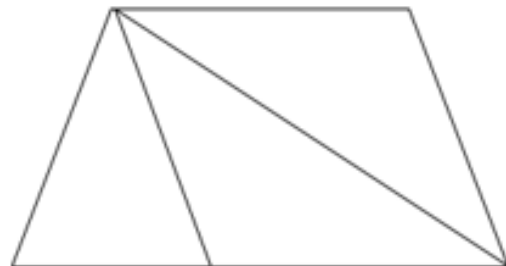
- A. 34 lít B. 100 lít C. 44 lít D. 90 lít

Câu 7. Ngày 27 tháng 12 là thứ hai. Ngày 22 tháng 12 là thứ mấy?

- A. Thứ ba B. Thứ tư C. Thứ năm D. Thứ sáu

Câu 8. Hình bên có:

- A. 3 tam giác, 2 tứ giác
B. 4 tam giác, 3 tứ giác
C. 4 tam giác, 2 tứ giác
D. 4 tam giác, 4 tứ giác



Phần 2. Tự luận (6 điểm)

Câu 1 (2 điểm). Đặt tính rồi tính:

$26 + 35$ $26 + 59$ $75 - 17$ $60 - 43$

.....
.....
.....
.....
.....

Câu 2 (1 điểm). Vẽ thêm kim giờ để đồng hồ chỉ thời gian.



3 giờ



20 giờ

Câu 3 (2 điểm).

Năm nay bố 31 tuổi, con 8 tuổi. Hỏi bố hơn con bao nhiêu tuổi?



Bài giải:

.....
.....
.....
.....
.....

Câu 4 (1 điểm). Số điền vào dấu “?” là bao nhiêu?

 = 7

 =  - 3

  = ?

- Số điền vào dấu “?” là: